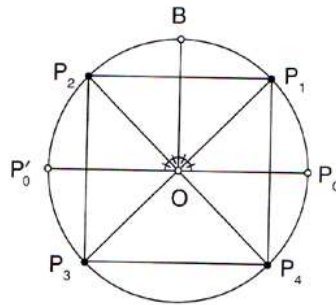
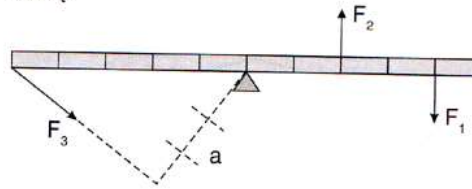


Nubraižykite šias fizikos figures

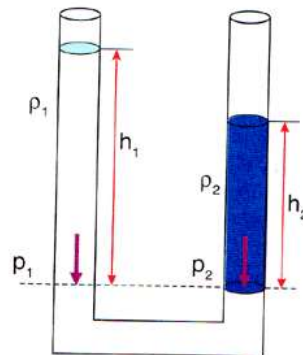
Nubraižykite.



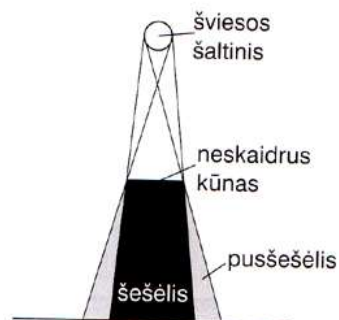
Nubraižykite svertą.



Nubraižykite susisiekiančiuosius indus.



Nubraižykite.



Smalsiems papildomai braižyti



Sudarykite lentelę. Ją pildydami naudokite teksto langelius.

Laipsniai	180°	90°
	π	$\pi/2$
Radianai	60°	45°
	$\pi/3$	$\pi/4$

Nubraižykite.

